


Занимательная

математика



Ребусы





число



счёт




1



2



5



8



З

Н

А

К




МИНУС



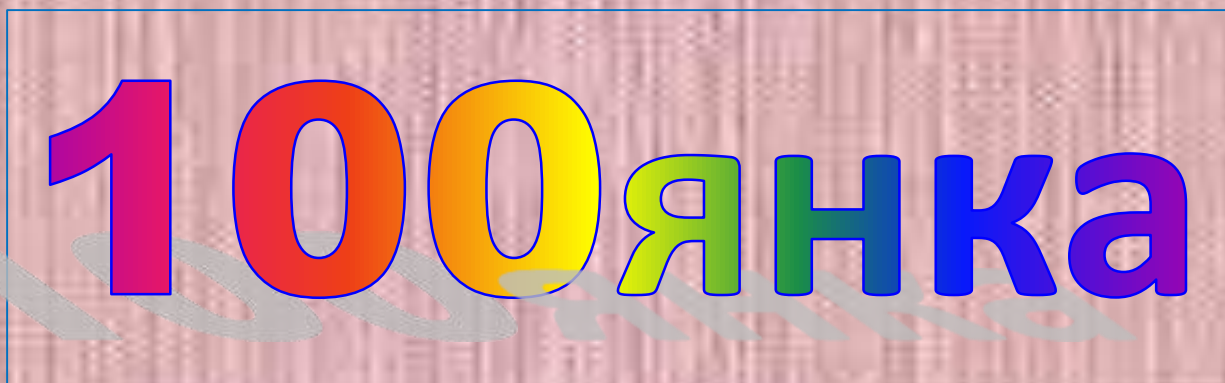
задача



точка



скворец



стоянка

Задачи-тесты



Выбери правильный ответ

7 воробышек спустились на грядки,
Скачут и что - то клюют без оглядки.
Котик - хитрюга внезапно подкрался,
Мигом схватил одного и умчался.
Вот как опасно клевать, без оглядки!
Сколько теперь их осталось на грядке?

0

6

5



Выбери правильный ответ

Дед, баба, внучка, Жучка, кошка и мышка тянули-тянули репку и, наконец, вытянули. Сколько глаз смотрело на репку?


10

12

8



Выбери правильный ответ



Два щенка-баловника
Бегают, резвятся,
К шалунишкам три щенка
С громким лаем мчатся.
Вместе будет веселей.
Сколько собралось друзей?

4

5

6


Выбери правильный ответ

Семь листьев Вася сам собрал,
Два листика Алеша дал.
Скажите, сколько у него
Осенних листиков всего?

7

9

8



Логические задачи



Свечи.

В комнате горело 50 свечей, 20 из них задули. Сколько останется?



Ответ: останется 20 свечей, остальные сгорят, а задутые свечи не сгорят полностью.

Сидят три барана, против
каждого барана - два барана,
много ль всех?



Ответ: 3 барана.

*Сестре 4 года, брату 6 лет.
Сколько лет будет брату, когда
сестре исполнится 6 лет?*



Ответ: 8 лет.



Ресурсы:

- <http://images.google.ru/imghp?hl=ru&tab=wi> картинки;
- <http://images.yandex.ru/> картинки;
- http://rebus.detsky-mir.com/2871/rebusy_po_matematike/;
- <http://znajka.net/>;
- <http://www.prozagadki.ru/>
- http://images.yandex.ru/yandsearch?ed=1&text=детские_фоны.